

## Studio di funzioni- esercizi svolti- easy

1. Studiare la funzione

$$y = 9x^3 - 4x$$

**Dominio:**  $\mathbb{R}$

**Pari o dispari: simmetria**

$$\left. \begin{array}{l} f(-x) = -9x^3 + 4x \\ -f(x) = -9x^3 + 4x \end{array} \right\} \Rightarrow f(x) \text{ è dispari}$$

$f(x)$  è simmetrica rispetto all'origine.

**Intersezione con gli assi:**

$$\begin{cases} x = 0 \\ y = 9x^3 - 4x \end{cases}; \begin{cases} x = 0 \\ y = 0 \end{cases}; O \equiv (0,0)$$

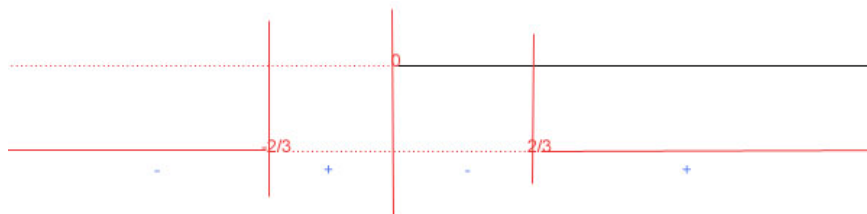
$$\begin{cases} y = 0 \\ y = 9x^3 - 4x \end{cases}; \begin{cases} y = 0 \\ 0 = 9x^3 - 4x \end{cases}; \begin{cases} y = 0 \\ x(9x^2 - 4) = 0 \end{cases}$$

$$\begin{cases} y = 0 \\ x = 0 \\ x = \pm \frac{2}{3} \end{cases} \quad A \equiv \left(0; \frac{2}{3}\right) \quad B \equiv \left(0; -\frac{2}{3}\right)$$

**Segno della funzione:**

$$f(x) > 0$$

$$9x^3 - 4x > 0 \quad x(9x^2 - 4) > 0 \quad \left[ \begin{array}{l} x > 0 \\ x < -\frac{2}{3}, \quad x > \frac{2}{3} \end{array} \right.$$



$$f(x) > 0 \quad \forall x \in \left(-\frac{2}{3}; 0\right) \cup \left(\frac{2}{3}; +\infty\right)$$

$$f(x) < 0 \quad \forall x \in \left(-\infty; -\frac{2}{3}\right) \cup \left(0; \frac{2}{3}\right)$$



**Limiti agli estremi del dominio:**

$$\lim_{x \rightarrow -\infty} 9x^3 - 4x = -\infty$$

$$\lim_{x \rightarrow \infty} 9x^3 - 4x = +\infty$$

**Derivata prima: max e min**

$$f'(x) = 27x^2 - 4$$

$$f'(x) \geq 0 \quad 27x^2 - 4 \geq 0$$

$$x \leq -\frac{2}{3\sqrt{3}} \quad x \geq \frac{2}{3\sqrt{3}}$$



$$\begin{aligned} f\left(\frac{2}{3\sqrt{3}}\right) &= 9 \cdot \left(\frac{2}{3\sqrt{3}}\right)^3 - 4 \cdot \left(\frac{2}{3\sqrt{3}}\right) = 9 \cdot \left(\frac{8}{27(3\sqrt{3})}\right) - \frac{8}{3\sqrt{3}} = \frac{8}{9(3\sqrt{3})} - \frac{8}{3\sqrt{3}} = \\ &= \frac{1}{3\sqrt{3}} \left(\frac{8-24}{9}\right) = \frac{1}{3\sqrt{3}} \left(\frac{-16}{9}\right) = -\frac{16}{27\sqrt{3}} \end{aligned}$$

Il minimo è simmetrico del massimo rispetto all'origine, pertanto sarà:

$$Max: \left(\frac{2}{3\sqrt{3}}; -\frac{16}{27\sqrt{3}}\right) \quad Min: \left(-\frac{2}{3\sqrt{3}}; +\frac{16}{27\sqrt{3}}\right)$$



**Derivata seconda:**

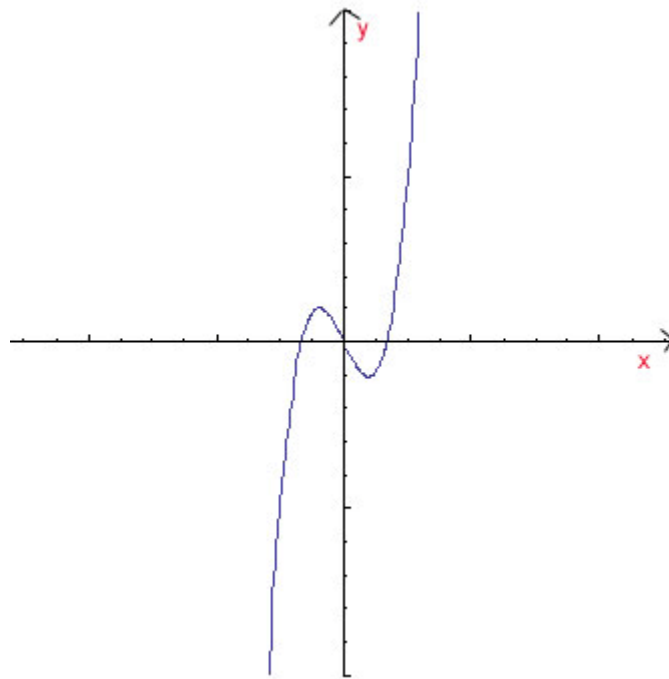
$$f''(x) = 54x$$

$$f''(x) \geq 0 \quad 54x \geq 0 \quad \rightarrow \quad x \geq 0$$



$F(0,0)$  è un flesso.

**Grafico**



2. Studiare la funzione:

$$y = x^3 + 8x^2 + 5x - 2$$

**Dominio:**  $\mathbb{R}$

**Intersezioni con gli assi cartesiani:**

$$\begin{cases} x = 0 \\ y = -2 \end{cases}; \begin{cases} y = 0 \\ 0 = x^3 + 8x^2 + 5x - 2 \end{cases} \quad (1)$$

Scomponiamo il polinomio  $x^3 + 8x^2 + 5x - 2$  mediante la regola di Ruffini:

$$P(-1) = -1 + 8 - 5 - 2 = 0$$

$$\begin{array}{r|rrrr} & 1 & +8 & +5 & -2 \\ -1 & & -1 & -7 & +2 \\ \hline & 1 & +7 & -2 & 0 \end{array}$$

Il polinomio (1) diviene:

$$(x + 1)(x^2 + 7x - 2) = 0$$

$$x = \frac{-7 \pm \sqrt{49 + 8}}{2} = \frac{7 \pm \sqrt{57}}{2} = \begin{array}{l} \frac{-7 + \sqrt{57}}{2} \\ \frac{-7 - \sqrt{57}}{2} \end{array}$$

La curva interseca l'asse  $x$  in

$$A(-1; 0) \quad B\left(\frac{-7 - \sqrt{57}}{2}; 0\right) \quad C\left(\frac{-7 + \sqrt{57}}{2}; 0\right)$$

**Segno della funzione:**

$$f(x) > 0$$

$$(x - 1) \cdot (x^2 + 7x - 2) > 0$$

$$\begin{cases} (x - 1) > 0 \\ (x^2 + 7x - 2) > 0 \end{cases} \quad \left[ \begin{array}{l} x > 1 \\ x < \frac{-7 - \sqrt{57}}{2} \simeq -7,27 \end{array} \right] \quad x > \frac{-7 + \sqrt{57}}{2} \simeq 0,27$$





$$f(x) > 0 \quad \forall x \in \left( -\frac{7 - \sqrt{57}}{2}; \frac{7 + \sqrt{57}}{2} \right) \cup (1; +\infty)$$

$$f(x) < 0 \quad \forall x \in \left( -\infty; -\frac{7 - \sqrt{57}}{2} \right) \cup \left( -\frac{7 + \sqrt{57}}{2}; 1 \right)$$

**Limiti agli estremi del campo di definizione:**

$$\lim_{x \rightarrow -\infty} f(x) = -\infty$$

$$\lim_{x \rightarrow +\infty} f(x) = +\infty$$

**Derivata:**

$$f'(x) = 3x^2 + 16x + 5$$

$$f'(x) \geq 0$$

$$x = \frac{-8 \pm \sqrt{49}}{3} = \frac{-8 \pm 7}{3} = \begin{cases} -5 \\ -\frac{1}{3} \end{cases} \quad x \leq -5 \quad e \quad x \geq -1/3$$




$$Max: (-5; f(-5)) \quad Min: \left( -\frac{1}{3}; f\left(-\frac{1}{3}\right) \right)$$



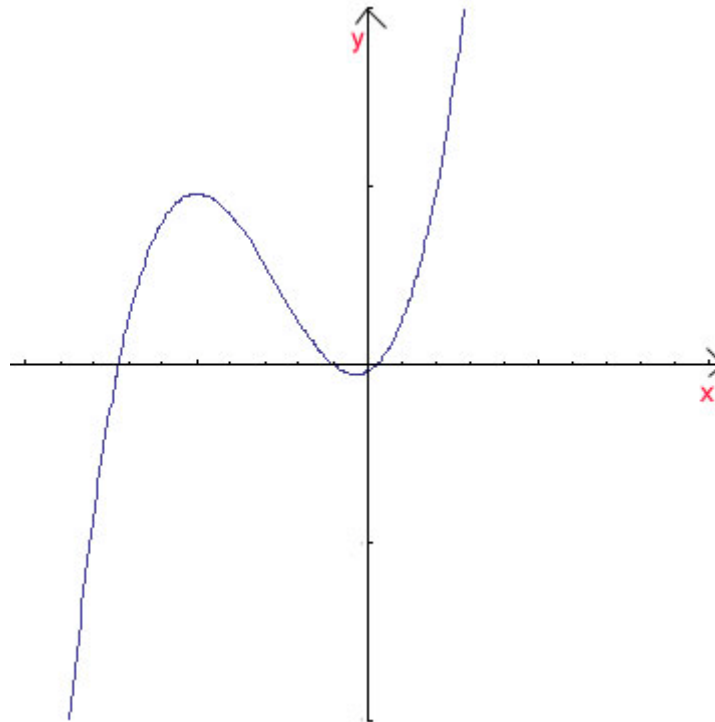
**Derivata seconda- flessi:**

$$f''(x) = 6x + 16$$

$$f''(x) \geq 0 \quad 6x + 16 \geq 0 \quad x \geq -\frac{16}{6}$$



$$F\left(-\frac{16}{6}; f\left(-\frac{16}{6}\right)\right)$$

**Grafico**

3. Studiare la funzione:

$$y = 3x^5 - 5x^3$$

### Dominio.

essendo una funzione intera il dominio è  $\mathbb{R}$

### Intersezione con gli assi cartesiani.

Intersezione con l'asse delle ordinate:

$$\begin{cases} x = 0 \\ y = 3x^5 - 5x^3 \end{cases} \quad \begin{cases} x = 0 \\ y = 0 \end{cases} \quad O(0;0)$$

Intersezione con l'asse delle ascisse:

$$\begin{cases} y = 0 \\ y = 3x^5 - 5x^3 \end{cases} \quad \begin{cases} y = 0 \\ 0 = 3x^5 - 5x^3 \end{cases} \quad \begin{cases} y = 0 \\ x^3(3x^2 - 5) = 0 \end{cases}$$

$$\begin{cases} y = 0 \\ x^3 = 0 \\ 3x^2 - 5 = 0 \end{cases} \quad \begin{cases} y = 0 \\ x = 0 \\ x = \pm \sqrt{\frac{5}{3}} = \pm \frac{\sqrt{15}}{3} \end{cases} \quad \rightarrow A\left(\frac{\sqrt{15}}{3}; 0\right) \quad B\left(-\frac{\sqrt{15}}{3}; 0\right)$$

### Simmetria

$$f(-x) = 3(-x)^5 - 5(-x)^3 = -3x^5 + 5x^3$$

$$-f(x) = -3x^5 + 5x^3$$

$$f(-x) = -f(x) \rightarrow f \text{ è dispari quindi } f \text{ è simmetrica rispetto all'origine}$$

### Segno della funzione

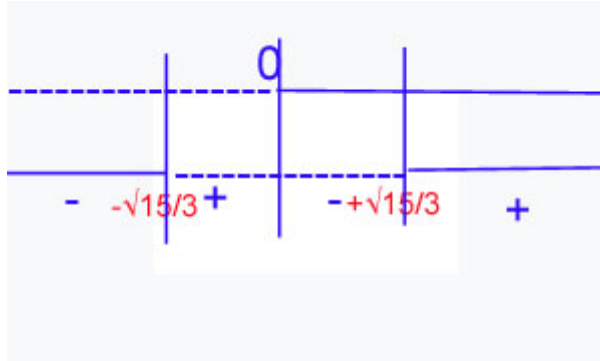
$$f(x) > 0$$

$$3x^5 - 5x^3 > 0$$

$$x^3(x^2 - 5) > 0$$



$$\begin{cases} x > 0 \\ x < -\frac{\sqrt{15}}{3} \end{cases} \quad x > +\frac{\sqrt{15}}{3}$$



$$f(x) > 0 \quad -\frac{\sqrt{15}}{3} < x < 0 \quad x > \frac{\sqrt{15}}{3}$$

$$f(x) < 0 \quad x < -\frac{\sqrt{15}}{3} \quad 0 < x < +\frac{\sqrt{15}}{3}$$

### Limiti agli estremi del campo di definizione

$$\lim_{x \rightarrow \pm\infty} f(x) = \pm\infty$$

### Derivata prima: Max e Min

Calcoliamo la derivata prima:

$$f'(x) = 15x^4 - 15x^2 = 15(x^4 - x^2)$$

Per la ricerca dei massimi e minimi poniamo:

$$f'(x) \geq 0$$

Nel nostro caso:

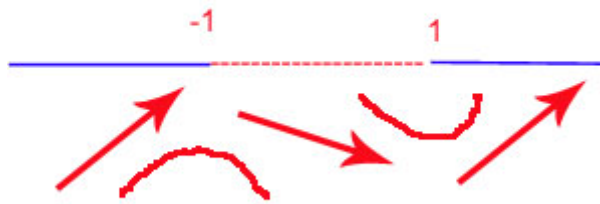
$$15x^4 - 15x^2 \geq 0$$

$$15x^2(x^2 - 1) \geq 0$$

$$\begin{cases} x^2 \geq 0 \\ x^2 - 1 \geq 0 \end{cases} \quad \begin{cases} \forall x \in \mathbb{R} \\ x \leq -1 \quad x \geq 1 \end{cases}$$







$x=-1$  è un massimo e  $x=1$  è un minimo.

Calcoliamo le loro ordinate, per farlo quindi sostituiamo 1 al posto della  $x$  in  $f(x) = 3x^5 - 5x^3$ :

$$f(-1) = 3(-1)^5 - 5(-1)^3 = 2$$

Poiché la funzione è simmetrica rispetto all'origine il minimo avrà come ordinata -2:

*Max* (-1; +2)    *Min* (1; -2)

### Derivata seconda: Flessi

Calcoliamo la derivata seconda:

$$f''(x) = 15(4x^3 - 2x)$$

Per la ricerca dei flessi poniamo:

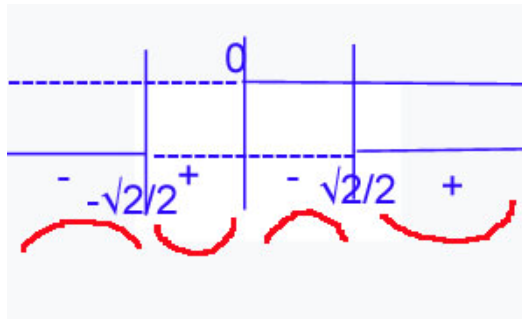
$$f''(x) \geq 0$$

$$4x^3 - 2x \geq 0$$

$$2x(2x^2 - 1) \geq 0$$

$$\begin{cases} x \geq 0 \\ x \leq -\frac{\sqrt{2}}{2} \end{cases} \quad x \geq \frac{\sqrt{2}}{2}$$





I flessi sono in  $x=0$   $x=+\frac{\sqrt{2}}{2}$  e  $x=-\frac{\sqrt{2}}{2}$

Calcoliamo l'ordinata dei flessi:

$$f(0) = 0$$

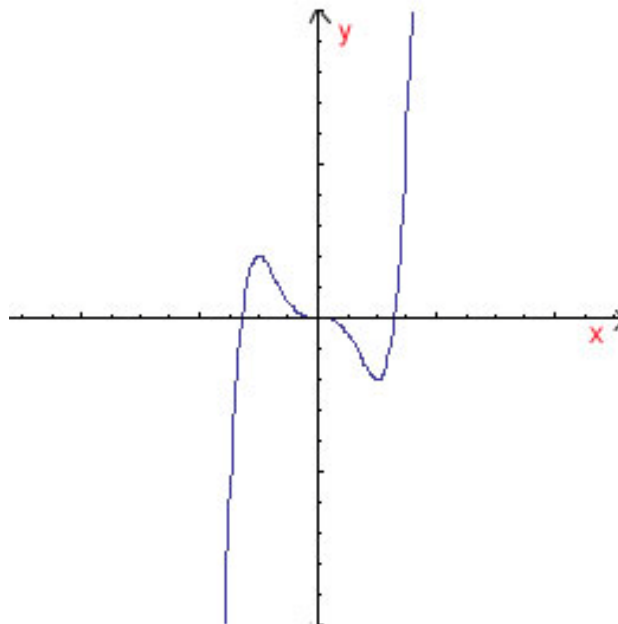
$$F_1(0; 0)$$

$$f\left(\frac{\sqrt{2}}{2}\right) = \frac{3\sqrt{2}}{8} - 5\frac{2\sqrt{2}}{8} = \frac{3\sqrt{2} - 10\sqrt{2}}{8} = \frac{-7\sqrt{2}}{8}$$

Poiché la funzione è simmetrica rispetto all'origine il minimo avrà come ordinata  $+\frac{7\sqrt{2}}{8}$  quindi i

flessi sono:  $F_1(0; 0)$ ;  $F_2\left(+\frac{\sqrt{2}}{2}; -\frac{7\sqrt{2}}{8}\right)$ ;  $F_3\left(-\frac{\sqrt{2}}{2}; +\frac{7\sqrt{2}}{8}\right)$

### Grafico



4. Studiare la funzione:

$$y = \frac{2x^3 - 1}{x^2 + 1}$$

**Dominio:**  $\mathbb{R}$

**Intersezione con gli assi:**

$$\begin{cases} x = 0 \\ y = \frac{2x^3 - 1}{x^2 + 1} \end{cases}; \quad \begin{cases} x = 0 \\ y = -1 \end{cases} \quad A(0; -1)$$

$$\begin{cases} y = 0 \\ y = \frac{2x^3 - 1}{x^2 + 1} \end{cases}; \quad \begin{cases} y = 0 \\ 2x^3 - 1 = 0 \end{cases}; \quad \begin{cases} y = 0 \\ x^3 = \frac{1}{2} \end{cases}; \quad \begin{cases} y = 0 \\ x = \sqrt[3]{\frac{1}{2}} \end{cases} \quad B\left(\sqrt[3]{\frac{1}{2}}; 0\right)$$

**Pari/Dispari**

$$f(-x) = \frac{-2x^3 - 1}{x^2 + 1}$$

$$-f(x) = \frac{-2x^3 - 1}{x^2 + 1}$$

$f(-x) \neq -f(x) \Rightarrow$  *no dispari*

$-f(x) \neq f(-x) \Rightarrow$  *no pari*

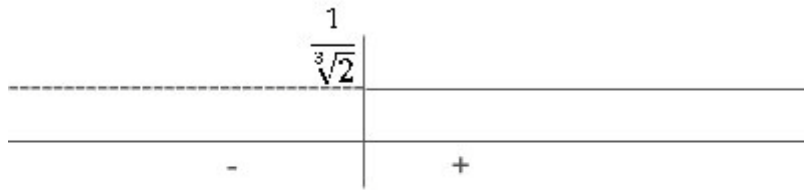
**Segno**

$$\frac{2x^3 - 1}{x^2 + 1} > 0 \quad \begin{cases} 2x^3 - 1 > 0 \\ x^2 + 1 > 0 \end{cases} \quad \begin{cases} x > \frac{1}{\sqrt[3]{2}} \\ \forall x \in \mathbb{R} \end{cases}$$

$$f(x) < 0 \quad \forall x < \sqrt[3]{\frac{1}{2}}$$

$$f(x) > 0 \quad \forall x > \sqrt[3]{\frac{1}{2}}$$





### Limiti agli estremi del campo di definizione

$$\lim_{x \rightarrow -\infty} f(x) = -\infty$$

$$\lim_{x \rightarrow +\infty} f(x) = +\infty$$

### Derivata: max e min

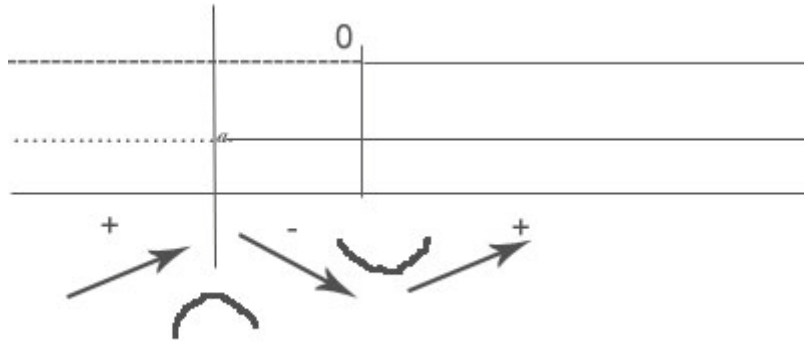
$$\begin{aligned} f'(x) &= \frac{6x^2(x^2 + 1) - (2x^3 - 1)(2x)}{(x^2 + 1)^2} = \\ &= \frac{2x[3x(x^2 + 1) - 2x^3 + 1]}{(x^2 + 1)^2} = \frac{2x(3x^3 + 3x - 2x^3 + 1)}{(x^2 + 1)^2} = \frac{2x(x^3 + 3x + 1)}{(x^2 + 1)^2} \end{aligned}$$

Posto  $f'(x) \geq 0$

$$\frac{2x(x^3 + 3x + 1)}{(x^2 + 1)^2} \geq 0 \quad \begin{cases} 2x \geq 0 \\ x^3 + 3x + 1 \geq 0 \\ (x^2 + 1)^2 > 0 \end{cases} \quad \begin{cases} x \geq 0 \\ x \geq \alpha \text{ con } \alpha \in (-1; 0) \\ \forall x \in \mathbb{R} \end{cases}$$

$$A(0; 1) \equiv \min$$





### Il grafico

